

## Experiencia de Aprendizaje 2

<b>Actividad 3</b>	Dialogamos sobre las actividades que compartimos en familia .				
<b>Situación de aprendizaje:3</b>	Identificamos movimientos , desplazamientos durante las actividades .				
<b>Propósito:</b>	El día de hoy, después de haber dialogado con las familias para saber las actividades que realizarán aprenderán a resolver situaciones problemáticas usando las flechas de posición.				
<b>Área:</b>	Matemática	<b>Grado:</b>	2do	<b>Fecha:</b>	12/05/2021

1.- Comenta con tu familia la importancia de utilizar las expresiones delante , detrás , izquierda y derecha .

• Para indicar la ubicación de una persona, objeto u otro tenemos que partir de nuestro cuerpo o de un punto de referencia que puede ser una persona o un objeto. Por ejemplo:

Oscar está **delante** del árbol y Paola está **detrás** del árbol.

La botella está en la mano **derecha** de Saúl y la pera, en su mano **izquierda**.

• Los desplazamientos se representan con flechas, porque indican la dirección a donde se quiere ir.

Hacia la derecha ← Hacia la izquierda →

2.- Elvira visita la chacra de su tío ayúdala a completar los espacios en blanco :



- Encima del puente hay \_\_\_\_\_
- Debajo del puente pasa \_\_\_\_\_
- Arriba de la casa se puede observar \_\_\_\_\_
- Delante de la casa hay \_\_\_\_\_
- Detrás del tío de Elvira hay \_\_\_\_\_
- El señor de la imagen sujeta la lampa con su mano \_\_\_\_\_
- La casa se encuentra al lado \_\_\_\_\_ de Elvira.

2.- Observo a Luis y Elvira en la chacra de su tío donde han sembrado maíz ,oca ,olluco y papa .  
Une con una línea el letrero con el alimento que corresponda .



Si Luis camina hacia **adelante**, llegará al cultivo de...

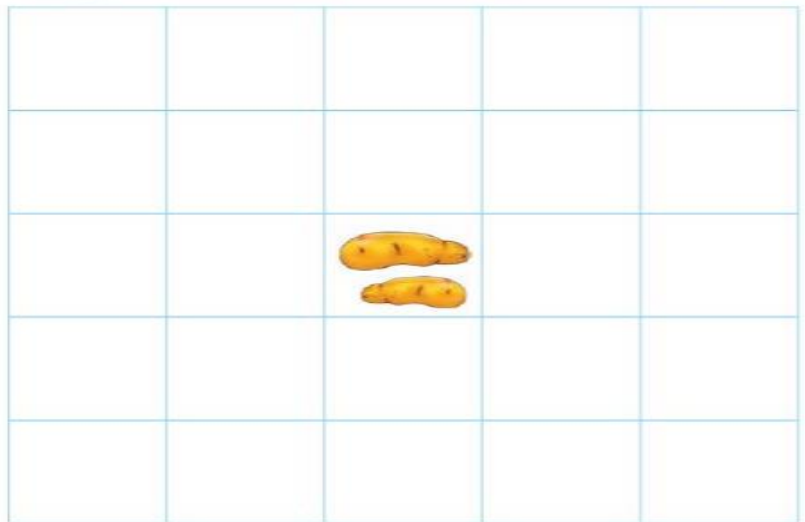
Si Elvira camina hacia **adelante**, llegará al cultivo de...

A la **derecha** de Elvira, está el cultivo de...




3.- Ayudo a Elvira a ordenar el almacén de su tío.Los productos se ubicarán según las indicaciones .

- Subo un cuadro **arriba** del olluco y dibujo 1 papa.
- Hacia la **derecha** de la papa, dibujo pocas semillas de quinua.
- Dos cuadros **debajo** de la quinua, dibujo 2 papas.
- En un cuadro hacia la **izquierda** del olluco, dibujo muchas semillas de maca.




4.- Dibuja una paloma volando hacia arriba del árbol y una lampa debajo de las ramas de éste .





## Mi evidencia

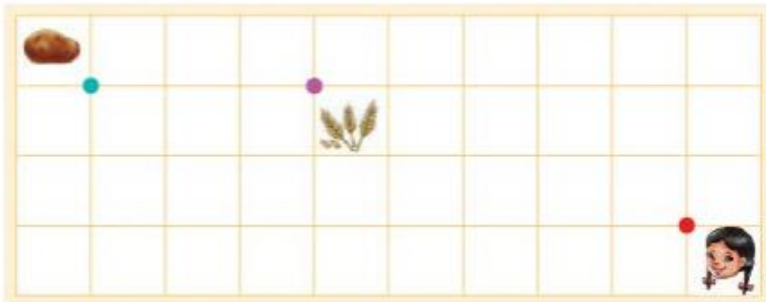
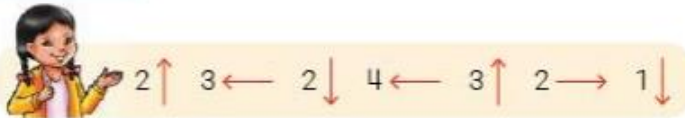
1.- Trazamos el desplazamiento de Luis y Elvira por la chacra de su tío ,según indican los números y las flechas .



Respondemos :

Luis llegó a



---



Respondemos :

Elvira llegó a

---

CRITERIOS DE EVALUACIÓN	Lo logré 	Lo estoy intentando 	Necesito apoyo 
.Representé con material concreto posiciones de personas con relación a un punto de referencia			
• ubiqué y explique las posiciones ó desplazamientos de objetos ó personas utilizando las expresiones delante, detrás, izquierda , derecha.			

Ingresar a la pág.virtual del nivel primaria para imprimir sus experiencias al sgt.link

<https://doramayerprimaria.wixsite.com/website>